


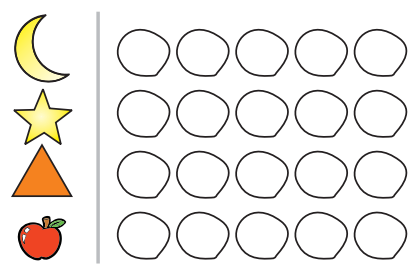


# هفته‌ی ۱

نام:  
نام خانوادگی:


نام:  
نام خانوادگی:

## ریاضی (۱)


با توجه به جمله‌ها، تصویر را کامل کن.  
 کبوتر روی درخت را رنگ بزن.  
 بالای درخت، خورشید بکش.  
 جلوی پای پسرک، توپ بکش.  
 پشت سر پسرک، یک گل زیبا نقاشی کن.  
 روی شاخه‌ی درخت، یک سیب نقاشی کن.  
 تصویر را به دلخواه رنگ آمیزی کن.




کدام یک از این وسایل در خانه‌ی شما وجود ندارد؟ دایره‌ی زیر آن را رنگ بزن.



شکل‌هایی را که صدای آخرشان مثل هم است به همدیگر وصل کن.



چه کسانی با شما در خانه زندگی می‌کنند؟



مانند نمونه با توجه به حرکت و جهت فلش بنویس.




اولیای محترم، لطفاً در هنگام انجام تکلیف به حرکت دست فرزند خود و جهت فلش‌ها دقت لازم را داشته باشید.








الگو را ادامه بده.



هر شکل، عدد مربوط به کدام دست را نشان می‌دهد؟



علوم تجربی (از صفحه ۱۰ تا صفحه ۱۱)

در هر شکل، با توجه به سایه، خورشید را در جای صحیح آن بکش.



این پسر می‌خواهد سایه‌ی خود را در هنگام ظهر ببیند. به او کمک کن و خورشید را در جای مناسب بکش.



۲




۳

فارسی

(نگاره ۱)

دانش‌آموز عزیز، به تصویر خوب نگاه کن و پاسخ سؤال‌ها را با کشیدن نقاشی نشان بده.



- الف) این خانواده چند نفر هستند؟ به تعدادشان آدمک بکش.
- ب) به تعداد بشقاب‌های روی میز، سیب بکش.
- ج) برای هر شاخه از گلدان پشت پنجره، یک گل زیبا بکش.
- د) یک پروانه داخل تابلوی روی دیوار بکش.
- ه) روی میز سمت راست چه می‌بینی؟ دور آن خط بسته بکش.

هفته ۱



پنجشنبه اول دیستان

پنجشنبه اول هفته اول





# هفته‌ی ۲



نام:  
کلاس:  
مدرسه:

نام:  
نام خانوادگی:

## ریاضی (۲)

هر کدام از شکل‌های سمت چپ را به یک شکل از سمت راست وصل کن.



جدول زیر را کامل کن. دقت کن در هر ردیف یا ستون، شکل تکراری نداشته باشی.


آ		
	ب	آ
		د

☾		
☉	★	
		☉

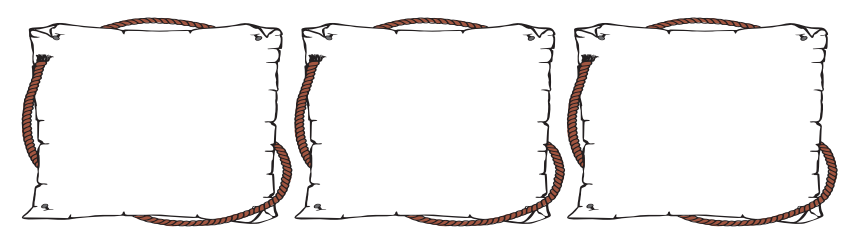
۱





چند تا از وسایلی را که همراه خود به مدرسه می‌بری نقاشی کن.



چند تصویر نقاشی کن که صدای اول آنها مثل صدای اول مداد باشد.




نقطه چین‌ها را به هم وصل کن.



مانند نمونه با توجه به حرکت و جهت فلش بنویس.




۴





دور وسایلی که در آب فرو می‌رود، خط بسته بکش.

یکی بعد و یکی قبل از تعداد شکل‌های هر دسته را با کشیدن شکل‌ها نشان بده.



### فارسی

(نگاره ۳ و ۴)

در هر ردیف کدام تصویر کار درست را نشان می‌دهد؟ علامت بزن.

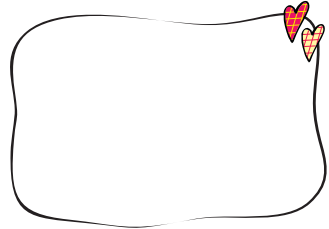
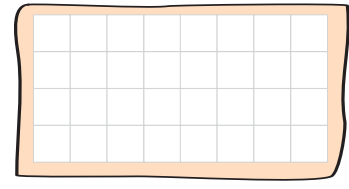
اگر به هر گلدان یک گل اضافه کنیم، هر گلدان چند گل خواهد داشت؟ با انگشتان دست نشان بده.



در صفحه‌ی شطرنجی، ۲ ردیف را با الگوی مشخص رنگ بزن.

بین و بگو.

الف) امین همیار پلیس است. برای او یک تابلوی ایست، نقاشی کن. در مورد کارش توضیح بده.



ب) رنگ قرمز چراغ راهنمایی، نشانه‌ی چیست؟ بگو.

### علوم تجربی

(از صفحه‌ی ۱۲ تا صفحه‌ی ۱۳)

کدام کار درست است؟ علامت بزن.

ج) در مسیر خانه تا مدرسه چه چیزهایی را می‌بینی؟ برای خانواده‌ات تعریف کن.

